



ПРИКЛАДНІК ЗА ШКОЛЯРА

Република Сербия
МИНИСТЕРСТВО ПРОСВИТИ
ЗАВОД ЗА ВРЕДНОВАЊЕ КВАЛИТЕТУ
ОБРАЗОВАЊА И ВОСПИТАЊА

ЗАКОНЧУЮЦИ ИСПИТ НА КОНЦУ ОСНОВНОГО ОБРАЗОВАЊА И ВОСПИТАЊА

ТЕСТ

ГЕОГРАФИЈА

ИДЕНТИФИКАЦИЈНИ ФОРМУЛАР

МЕНО, МЕНО ЄДНОГО РОДИТЕЛЯ/ДРУГОГО ЗАКОНСКОГО ЗАСТУПНІКА, ПРЕЗВИСКО ШКОЛЯРА

ИДЕНТИФИКАЦИЈНЕ ЧИСЛО ШКОЛЯРА

--	--	--	--	--	--	--	--	--	--

ОСНОВНА ШКОЛА

МЕСТО

ОПШТИНА


ПОДПИС ДЕЖУРНОГО НАСТАВНІКА

Резултати мож опатриц на порталу **Моја средња школа**: <https://mojasrednjaskola.gov.rs>. з уношеньом єдинственого идентификаційного числа школяра (дзешеццифрова шифра школяра). За преберанє скенированного тесту у пдф формату, у часци дзе доступни резултати закончующого испиту, неєобходне унесц єдинствену шифру тесту.

Єдинствена шифра тесту: 170620260847

Кед родитель / други законски заступнік ма налог на порталу **Мој есДневник** або ма налог на **Порталу за електронску идентификацију eID.gov.rs** зоз хторим приступа на портал **Мој есДневник**, теди, окрема увиду до резултатох закончующого испиту, на порталу **Моја средња школа** може вихасновац и даєдну зоз шлїдуючих електронских услугох: подношенє пригварки на резултати закончующого испиту, подношенє електронскей лістини жаданьох и подношенє електронскей прияви за упис до стредней школи.

УПУТСТВО ЗА РОБОТУ

- Тест хтори треба ришиц ма **20 задатки**. За роботу предвидзени **120 минути**.
- Задатки не мушиш робиц по шоре по яким су дати.
- У работи можеш хасновац графитни клайбас и гумку, але не шмеш хасновац калкулятор и мобилни телефон.
- Конечни одвити и поступок напиш з **белавим хемийним клайбасом**.
- Одвит хтори написани лем з графитним, чарним або „пиш-сцерай“ клайбасом не будзе припознати.
- У задаткох з понукнутима одвитами не буду припознати преправяни одвити.
- У задаткох з понукнутима одвитами, у хторих лем еден одвит точни, доставаш 0 боди кед коло точного одвитузначиш и даеден неточни.
- Обрац увагу же ше задатки розликую по способе на яки маш дац одвит.
- Не уписуй ніч на QR коди () хтори ше находза на каждам боку тесту.

У даедних задаткох вибереш точни одвит так же офарбиш одвитууюци крушок. У задаткох дзе ест вецей точни одвити треба офарбиц вецей крушки. Водз рахунку же крушок муши буц офарбени, бо ци лем так одвит будзе припознати.

ПРИКЛАД ОФАРБЕНИХ КРУШКОХ
У задатку з єдним точним одвитом
Хтори главни город Републики Сербії? Офарб крушок опрез точного одвиту.
<p><input type="radio"/> Нови Сад</p> <p><input checked="" type="radio"/> Београд</p> <p><input type="radio"/> Ниш</p> <p><input type="radio"/> Крушевац</p>
У задатку з вецей точнима одвитами
Офарб крушки опрез виразох чий собир 5.
<p><input checked="" type="radio"/> 2 + 3</p> <p><input type="radio"/> 1 + 2</p> <p><input checked="" type="radio"/> 4 + 1</p> <p><input type="radio"/> 2 + 4</p> <p><input type="radio"/> 3 + 5</p>

- Кед закончиш скорей, придай тест и поцихи видз.

Жичиме ци вельо успиху на испиту!

ЗАКОНЧУЮЦИ ИСПИТ НА КОНЦУ ОСНОВНОГО ОБРАЗОВАНИЯ И ВОСПИТАНИЯ
ТЕСТ
ГЕОГРАФИЯ

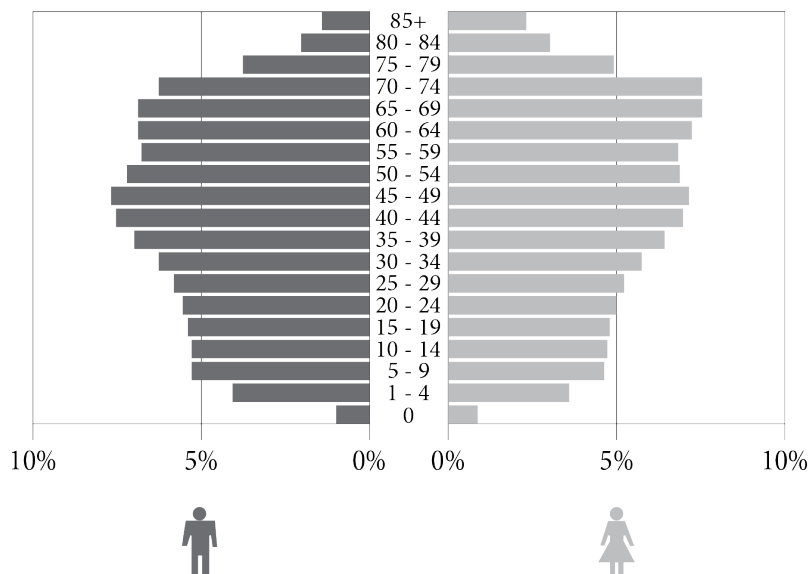
1. Хтора медзинародна ознака за восток?
Офарб кружок опрез точного одвиту.
- ☐ N ☐ S ☐ E ☐ W
2. Хтори форми релефу на мапox приказани з розличними ниянсами желєней фарби?
Офарб кружок опрез точного одвиту.
- ☐ гори ☐ високоровнїни ☐ нїжини ☐ пустинї
3. Хтора планета найоддалєнша од Слунка?
Офарб кружок опрез точного одвиту.
- ☐ Сатурн ☐ Нептун ☐ Юпитер ☐ Уран
4. Як ше вола процес рушаня Жеми коло Слунка?
Офарб кружок опрез точного одвиту.
- ☐ ротация ☐ акумулация ☐ революция ☐ ерозия
5. Хтори найвєкши водово поверхносци на Жеми?
Офарб кружок опрез точного одвиту.
- ☐ океани ☐ моря ☐ реки ☐ озера
6. Як ше вола просєковє число житєльох по єдним километру квадратним териториї?
Офарб кружок опрез точного одвиту.
- ☐ густосц населєносци ☐ природни прирост
- ☐ наталитет ☐ морталитет
7. Хтори континент ма найвєкшу учасц младого житєльства?
Офарб кружок опрез точного одвиту.
- ☐ Европа ☐ Африка ☐ Сиверна Америка ☐ Австралия
8. Хтора дїялносц припада гу терциарному сектору привреди?
Офарб кружок опрез точного одвиту.
- ☐ наука ☐ лєсарство ☐ погосцительство ☐ будовательство

9. На хторим континенту ше находзи найвельолюднейша держава швета?
Офарб кружок опрез точного одвиту.
- ☐ Сиверноамерицким ☐ Европским ☐ Африцким ☐ Азийским
10. На хторей гемисфери ше з цалу свою поверхносцу находзи Европа?
Офарб кружок опрез точного одвиту.
- ☐ сиверней ☐ южней ☐ восточней ☐ заходней
11. У хторим мешацу ше на сиверней Жемовой гемисфери зявює краткодньовица?
Офарб кружок опрез точного одвиту.
- ☐ януару ☐ юнию ☐ септембру ☐ децембру
12. Офарб кружок у одвитујущим полю так же повяжеш типи озерох зоз способом наставаня їх базену.

	тектонска	крашска	еолска
Наставаю кед вода виполні углібєня у вапняніцким просторе.	<input type="radio"/>	<input type="radio"/>	<input type="radio"/>
Наставаю кед вода виполні часци копна спущени вонконцом розшеду.	<input type="radio"/>	<input type="radio"/>	<input type="radio"/>
Находза ше у углібєньох хтори настали з роботу витру.	<input type="radio"/>	<input type="radio"/>	<input type="radio"/>

13. Хтора спомедзи начишлених державох не член Европскей униї?
Офарб кружок опрез точного одвиту.
- ☐ Болгарска
- ☐ Белгия
- ☐ Швайцарска
- ☐ Шпаниа

14. Хтори ознаки полно старосней пирамиди Србиї хтора приказана на слики?



Офарб кружок опрез точного одвиту.

- ☐ векша учасц старого жительство у одношеню на младе
- ☐ найвекша учасц жительство старосци 30–34 роки
- ☐ найвекша учасц младог жительство
- ☐ менша учасц женох у одношеню на хлопох старосци 80–84 роки

15. Хтора рика урезала Овчарско-кабларску клисуру?

Офарб кружок опрез точного одвиту.

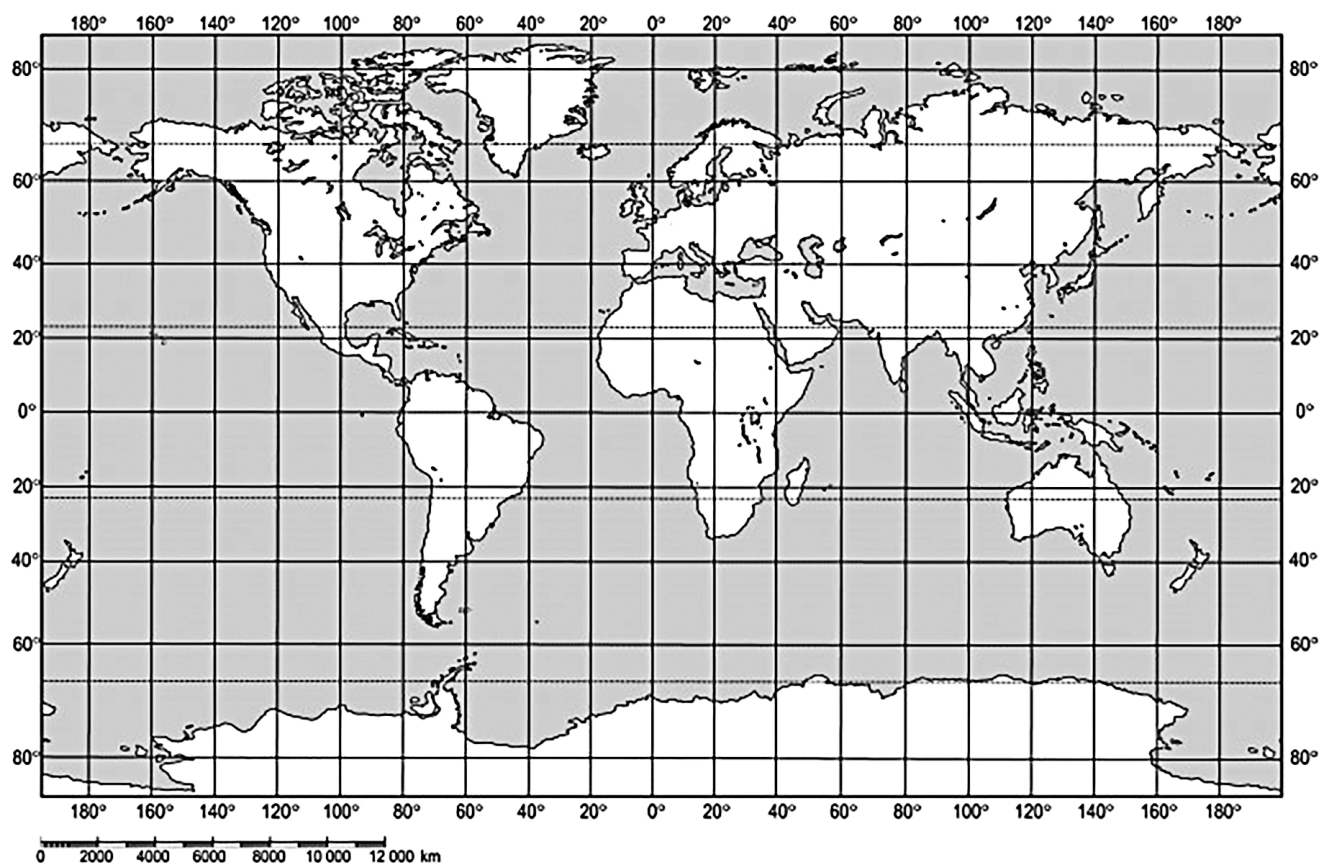
- ☐ Велька Морава
- ☐ Южна Морава
- ☐ Заходна Морава
- ☐ Бинацка Морава

16. Хтора часц Азиї ма найрозконаруенше побереже?

Офарб кружок опрез точного одвиту.

- ☐ Югозаходна Азия
- ☐ Централна Азия
- ☐ Южна Азия
- ☐ Юговосточна Азия

17. У хторим океану ше находзи точка зоз координатами 30° СГШ и 30° ЗГД?



Офарб кружок опрез точного одвиту.

- ☐ Северним лядовим ☐ Атлантским ☐ Индийским ☐ Цихим

18. У нащиви ши манифестациі „Дні Йована Цви́ча” у Лозници. Хтору найблізшу купель можеш нащивиц?
Офарб кружок опрез точного одвиту.

- ☐ купель Врдник ☐ купель Ковилячу ☐ Сокобаню ☐ Врнячку Баню

19. Хтори держави ше з єдней часци находза у Панонскей ніжини?
Офарб **кружки** опрез точних одвитох.

- ☐ Греческа ☐ Болгарска ☐ Горватска ☐ Албания ☐ Словения

20. Найдлугша рика Англоамерика. Повязує ше зоз Мисуриєм при городзе Сент Луису. Чече у напрямє меридиянох през Централну ніжину. При уліве до Мексицкого заліву формує вельку делту.
Хтора то рика?
Офарб кружок опрез точного одвиту.

- ☐ Мисисипи ☐ Макензи ☐ Меконг ☐ Мари

ПРАЗНИ БОК



Република Србија
МИНИСТЕРСТВО ПРОСВЕТИ
ЗАВОД ЗА ВРЕДНОВАЊЕ КВАЛИТЕТУ
ОБРАЗОВАЊА И ВОСПИТАЊА

ПРИКЛАДЊИК ЗА ШКОЛУ

ЗАЛІПНУЦ ІДЕНТИФІКАЦІЙНУ
НАЛІПКУ

ЗАКОНЧУЮЦІ ІСПИТ НА КОНЦУ ОСНОВНОГО ОБРАЗОВАЊА И ВОСПИТАЊА

ТЕСТ
ГЕОГРАФИЈА

ИДЕНТИФІКАЦІЙНИ ФОРМУЛАР

МЕНО, МЕНО ЄДНОГО РОДИТЕЛЯ/ДРУГОГО ЗАКОНСКОГО ЗАСТУПНІКА, ПРЕЗВИСКО ШКОЛЯРА

ИДЕНТИФІКАЦІЙНЕ ЧИСЛО ШКОЛЯРА

--	--	--	--	--	--	--	--	--	--

ОСНОВНА ШКОЛА _____

МЕСТО _____

ОПШТИНА _____

ПОДПИС ДЕЖУРНОГО НАСТАВНІКА